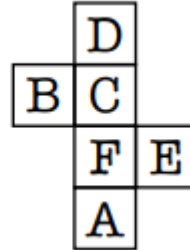
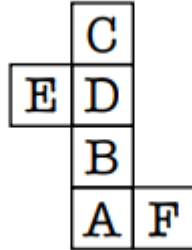
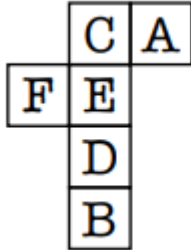
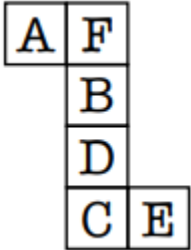




- Petr měl o patnáct kuliček méně než Ondra. Při hře vyhrál Petr nad Ondrou a ten mu dal čtyři kuličky. O kolik kuliček má teď Ondra víc než Petr?
- Urči, ze které sítě je možné složit kostku na obrázku:



- Vylušti přesmyčky a napiš, co mají tato slova společné (název skupiny, kterou tvoří):

VALÍ .....

CRINP .....


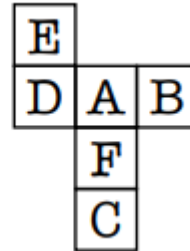
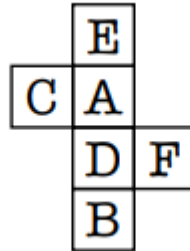
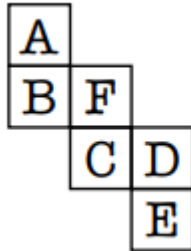
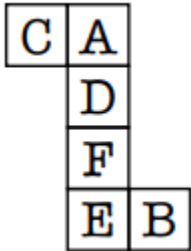
BAŽIJABE .....

DONVÍK .....

- jsou to .....



- Šimon měl několik kuliček. Od Marka si vypůjčil také určité množství kuliček. Pak 15 kuliček vyhrál. Markovi vrátil dluh a ještě mu zůstalo 40 kuliček. Kolik kuliček Šimon měl na začátku?
- Urči, ze které sítě je možné složit kostku na obrázku:



- Vylušti přesmyčky a napiš, co mají tato slova společné (název skupiny, kterou tvoří):

ŠUEVNE .....

RERUMK .....


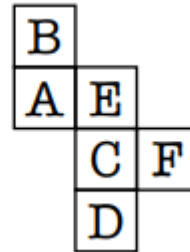
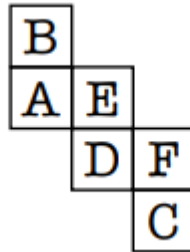
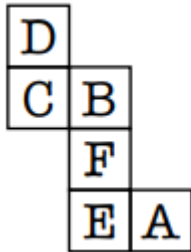
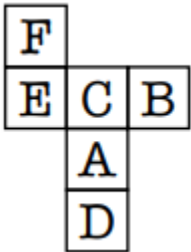
PNENUT .....

SARM .....

- jsou to .....



1. Standa měl dvakrát víc kuliček než Vítek. Při hře vyhrál Standa nad Vítkem a ten mu dal polovinu všech svých kuliček. Kolikrát více kuliček má teď Standa ve srovnání s Vítkem?
2. Urči, ze které sítě je možné složit kostku na obrázku:



3. Vylušti přesmyčky a napiš, co mají tato slova společné (název skupiny, kterou tvoří):

RANIFEC .....

KROSU .....

PROSOTAKLUG .....

SKOPLO .....

- jsou to .....

TRÉNINK MOZKU 06

Číselné křížovky – aneb netradiční trénink základních početních operací

Doplň do prázdných políček znaménka +, -, . nebo : tak, aby ve všech řádcích i sloupcích vycházely pravdivé rovnosti (ve všech výpočtech platí pravidla pro přednost početních operací, tj. . a : má přednost před + a -).

3		2		9	=	54
8		4		1	=	2
5		7		6	=	47
=		=		=		
19		5		15		

2		6		14		4	=	82
9		8		15		16	=	71
3		1		13		10	=	-21
5		11		7		12	=	-90
=		=		=		=		
10		-12		119		-2		

6		3		7	=	14
9		4		1	=	5
8		2		5	=	18
=		=		=		
-66		9		12		

5		9		1		6	=	2
11		14		8		4	=	39
15		10		3		7	=	154
13		2		16		12	=	7
=		=		=		=		
250		131		6		156		

3		6		1	=	-3
9		8		5	=	49
4		2		7	=	-10
=		=		=		
23		0		36		